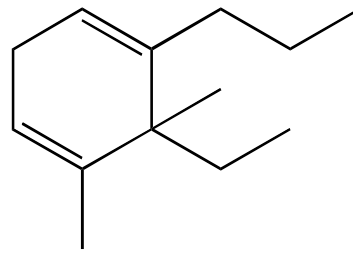
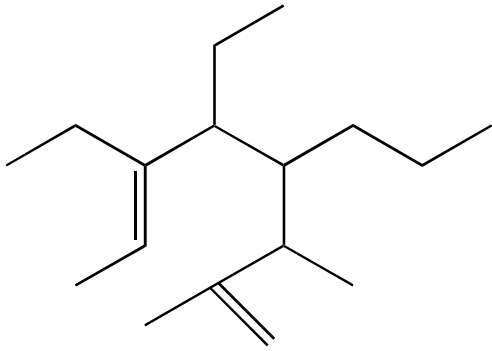
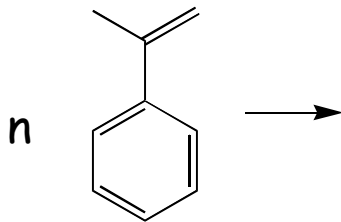


6^e : Chapitre 0 : Chimie organique

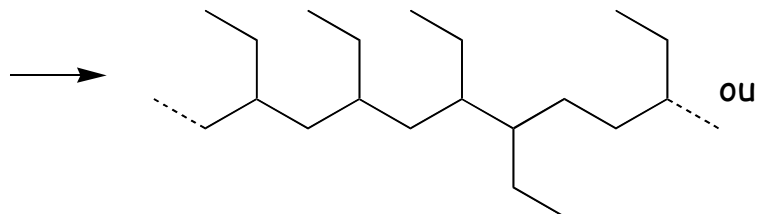
Nomme les alcanes ramifiés insaturés ci-dessous



Complète les équations de polyaddition suivantes en formule abrégée. Le polymère doit être écrit des 2 façons : en chaîne et en motif répété



Si le poids moléculaire moyen du polymère obtenu dans selon l'équation ci-dessus est de 320 000. Quel est son degré de polymérisation ?



Si le poids moléculaire moyen du polymère obtenu dans selon l'équation ci-dessus est de 240 000. Quel est son degré de polymérisation ?